



Roteiro de Estudo Dirigido II - Abril 4º ano /2020

Objetivos:

- Dar continuidade às atividades propostas, conforme Deliberação CEE 177/2020;
- Desenvolver habilidades de estudo, organização pessoal e dosagem de tempo fora do ambiente escolar.

Orientações:

- Siga as orientações dadas pelo(a) professor(a) quanto à realização das atividades;
- Realize as lições de forma dosada, um pouco por dia;
- Prepare as atividades solicitadas, adequadamente, e entregue-as na primeira aula do(a) respectivo(a) professor(a) na semana de retorno às aulas.

Bom Trabalho!
Seu colégio.

Atividade para imprimir e fazer com capricho!

Nome: _____

Série: _____ Professora: _____

1 - História

21 de abril - Dia de Tiradentes

Existem pessoas que se incomodam com determinadas situações políticas e, apesar de correrem riscos, vão atrás do que acreditam. Foi o que aconteceu com **Tiradentes**, cujo nome de nascimento é **Joaquim José da Silva Xavier**.

Tiradentes recebeu esse nome porque um de seus ofícios era o de dentista, mas também foi militar e comerciante. Tiradentes sonhava com um país livre da exploração portuguesa. Viveu em uma época com muitos problemas sociais em função do domínio português. Especificamente em Minas Gerais, os problemas tornaram-se mais sérios, pois, em meados do século XVIII, o estado entrou em fase de decadência econômica, as jazidas de ouro estavam se esgotando e os mineiros foram ficando cada vez mais pobres. Mesmo com este quadro o governo português continuou exigindo impostos dos mineiros. Inconformado com a situação, um grupo formado pelas pessoas mais influentes do estado, passa a organizar reuniões conspiratórias. O principal plano desse grupo chamado de **inconfidentes** era libertar o Brasil de Portugal. O plano não deu certo, pois havia entre eles um traidor, que denunciou o plano. Tiradentes foi condenado à morte e foi enforcado no dia 21 de abril de 1792.

Fonte: https://pt.wikipedia.org/wiki/Wikip%C3%A9dia:Princ%C3%ADpio_principal

Questões

1 - Quem foi Tiradentes?

R:

2 - Quais eram os ofícios de Tiradentes?

R:

3 - Quem eram os inconfidentes? E o que eles queriam?

R:

4 - O plano dos inconfidentes deu certo? Explique.

R:

5 - O que aconteceu com Tiradentes?

R:



22 de abril - Chegada dos portugueses ao Brasil

Quem descobriu o Brasil?

No ano de 1500 o rei de Portugal, Dom Manuel, pediu que preparassem uma expedição comandada por Pedro Álvares Cabral, com o objetivo de fazer uma viagem às terras distantes das Índias em busca de metais preciosos, como o ouro e a prata, e especiarias! A esquadra era formada por 13 caravelas e mais de 1500 homens saiu de Portugal no dia 9 de março de 1500 em direção às Índias.

Não se sabe ao certo por que Cabral desviou tanto a oeste da sua rota original, mas foi por isso que os portugueses encontraram as terras que foram chamadas de Novo Mundo, onde está o Brasil.

No dia 22, ouve-se um grito: “Terra à vista!” Avistaram um monte, que recebeu o nome de Monte Pascoal (era época da Páscoa). O nome dado à terra descoberta foi: Ilha de Vera Cruz, Terra de Santa Cruz e depois Brasil, devido à quantidade de pau-brasil encontrado no litoral.

A carta escrita por Pero Vaz de Caminha e enviada para o rei em Portugal descreve com detalhes a viagem, a terra descoberta e os nativos. Esse é um importante documento histórico para o Brasil e para o mundo.

O primeiro contato com a população local foi feito no dia 23 de abril. Os portugueses chamaram os nativos de índios, pois acreditavam ter chegado às Índias. Apesar do choque entre as diferentes culturas, trocaram objetos e cortesias pacificamente.

Frei Dom Henrique celebrou a primeira missa no dia 26 de abril. E acreditem, era domingo de Páscoa! Compareceram não só os comandantes, mas também as suas tripulações.

Fonte: https://pt.wikipedia.org/wiki/Wikip%C3%A9dia:P%C3%A1gina_principal

Questões:

1 - Quem enviou uma expedição às Índias? E qual era o objetivo dessa expedição?

R: _____

2 - Como era formada essa expedição e quem era o comandante?

R: _____

3 - Que dia os portugueses saíram para a expedição e quando avistaram terra?

R: _____

4 - Quais nomes nosso país recebeu?

R: _____


5 - Por que os portugueses chamaram os nativos de índios?

R: _____

6 - Quando foi realizada a primeira missa no Brasil?

R: _____

7 - Faça um belo desenho ilustrando o primeiro contato dos portugueses com os índios.



2 - Geografia

O Brasil se divide

Nosso país é o quinto maior do mundo em extensão, possui 8.514.876 km², e é o sexto país mais populoso do mundo com cerca de 210.147.125 habitantes (ano 2019).

Por causa da grande extensão territorial do Brasil, ele foi dividido em 26 estados mais o Distrito Federal, os estados que o compõem apresentam semelhanças e diferenças entre si.

A paisagem natural, o clima, as atividades econômicas e a população variam de um conjunto de estados para outros, dependendo de suas localizações.

Com base nas semelhanças entre os elementos físicos, humanos e econômicos, os estados brasileiros foram divididos em cinco regiões naturais: região norte, região nordeste, região centro-oeste, região sudeste e região sul.

Fonte: https://pt.wikipedia.org/wiki/Wikip%C3%A9dia:P%C3%A1gina_principal

Questões

1 - Faça uma lista com o nome dos 26 estados brasileiros e suas capitais, separando-os por regiões.


Região:		Região:		Região:	
Estado	Capital	Estado	Capital	Estado	Capital

Região:		Região:		
Estado	Capital	Estado	Capital	

2 - Recorte e cole imagens que ilustrem a região brasileira onde você vive e escreva três curiosidades sobre ela.

R:

- Cole as imagens no espaço abaixo:



3 - Matemática

O conteúdo do capítulo 5, unidade 2, Expressões Numéricas, será trabalhado presencialmente no retorno às aulas, dado o grau de dificuldade.

Capítulo 6: Geometria

De acordo com a explicação do livro e dos links abaixo, responda no próprio livro as seguintes páginas: 1º dia - 88 até 96/2º dia - 97 até 102.

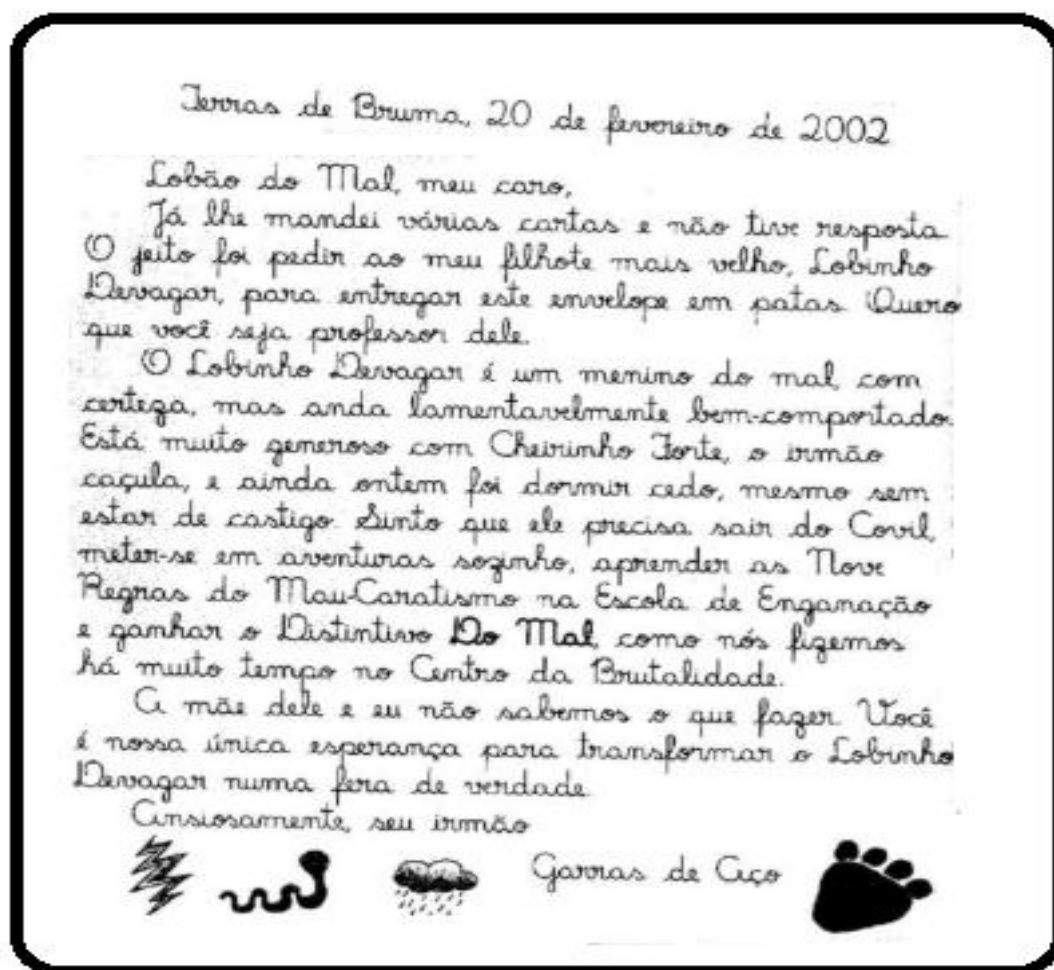
<https://www.youtube.com/watch?v=tv6OGwJ53pM&feature=youtu.be>
(Sólidos Geométricos)

<https://www.youtube.com/watch?v=6A4N5w7oEps&feature=youtu.be>
(Vértices, arestas e faces)

- Atividade no caderno:
Faça as tabuadas do 2 ao 9, duas vezes cada e estude-as.

4 - Língua Portuguesa

Leia o texto 1:



1 – Agora, responda:

a) Quem é Garras de Aço?

R: _____

b) Para quem ele manda este bilhete?

R: _____

c) De quem ele quer que o Lobão do Mal seja professor?

R: _____

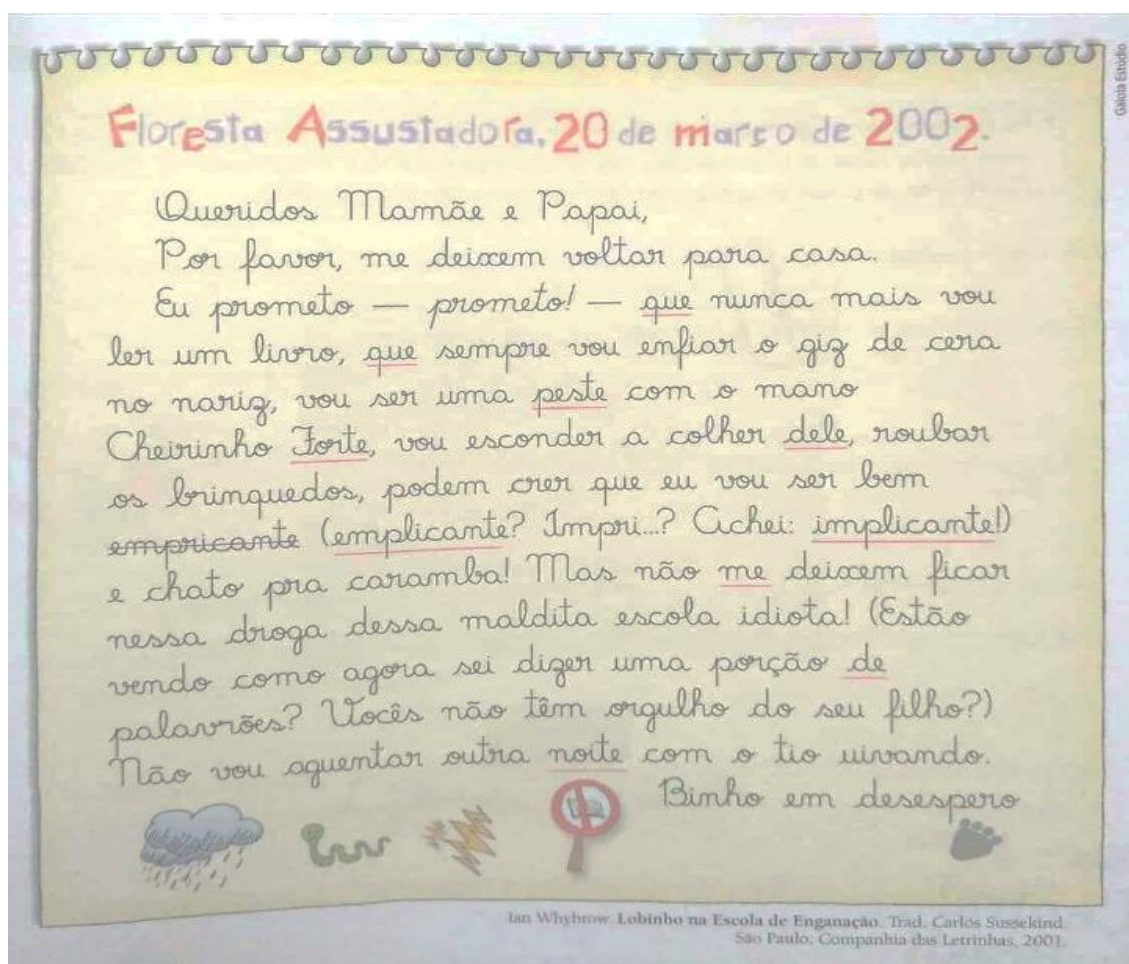
d) Por que ele pede que o Lobão do Mal seja o professor do seu filho?

R: _____

e) Quem é Cheirinho Forte?

R: _____

Leia o texto 2:



2 - Retire dos textos acima:

a) duas palavras com encontro consonantal

R: _____

b) duas palavras com encontro vocálico

R: _____

c) duas palavras polissílabas

R: _____

d) duas palavras trissílabas

R: _____

e) duas palavras dissílabas

R: _____

f) quatro palavras monossílabas

R: _____

g) duas palavras com ditongo

R: _____

h) duas palavras com hiato

R: _____

i) duas palavras dígrafo

R: _____

j) duas palavras com dígrafo nasal

R: _____

3- Dê o número de letras e fonemas das palavras:

Palavra	letras	fonemas	palavra	letras	fonemas
resposta			ansiosamente		
filhote			implicante		
prometo			cheirinho		
lobinho			lamentavelmente		
comportado			esperança		

4- Procure no dicionário e dê o significado das palavras:

- Mal _____

- Enganar _____

- Caráter _____

- Implicante _____

- Esperança- _____

5- Forme uma frase para cada palavra:

a) mal -

b) mau -

5 - Ciências

Acesse o link abaixo, que fala sobre as camadas da Terra, e responda as seguintes questões:

<https://www.youtube.com/watch?v=MKlj6wCdwrA>

a) Quais são as camadas da Terra?

b) Em qual camada da Terra encontramos o oxigênio?

c) O que encontramos na biosfera?

d) Do que é composta a hidrosfera?

e) Quantas e quais são as camadas que formam a geosfera?

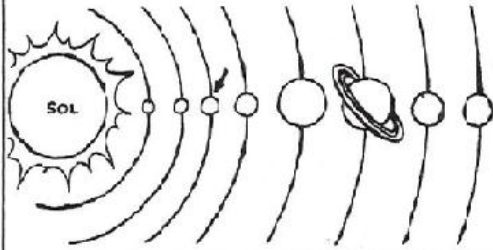
Acesse o link abaixo, que fala sobre o Sistema Solar, e responda os exercícios abaixo:

<https://www.youtube.com/watch?v=IKDqy41n8sY>

Este é o planeta _____.



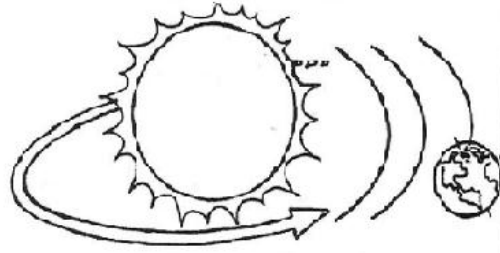
O planeta Terra pertence ao _____ solar.



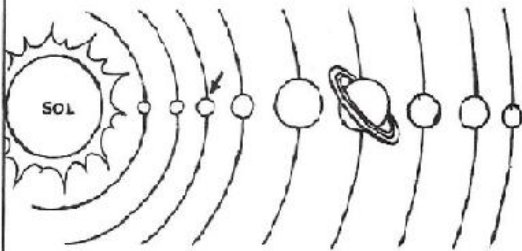
A Terra gira em torno de si mesma, é o movimento de _____.




A Terra gira ao redor do Sol, é o movimento de _____.



O Sistema Solar é formado por _____ planetas.



O _____ é o centro do Sistema Solar.



COMPLETANDO

- Complete as frases com as palavras do quadro.
Dica: uma mesma palavra pode aparecer várias vezes nas frases.

planeta	espaço	astros	estrelas
satélite(s)	Lua	céu	Universo
			Terra

Olhando para o _____, à noite, podemos ver a _____
e muitos pontos brilhantes, que são os _____.

Os _____ existentes no _____ é que formam o _____.

Os _____ que têm luz própria são as _____.

Os _____ que não têm luz própria são os _____, eles
recebem a luz que vem das _____.

No céu existem _____ que giram em volta de _____,
que são os _____.

A _____ é o _____ natural da Terra.

A _____ é um _____ que faz parte do _____.



6 - Artes

Escute a historinha clicando no link abaixo com muita atenção:

<https://www.youtube.com/watch?v=hDogE5THWvA>

Agora, responda:

a) Quais são as cores primárias?

b) Cite duas cores secundárias de que você mais gosta.

c) Com capricho, pinte as imagens abaixo usando as cores:

